

Bureau Pédagogique des Sœurs Salésiennes de Don Bosco
Examen du 4^{ème} Contrôle - Juin 2024

Institution : _____

Nom : _____ **Prénom(s) :** _____

Date : _____ **Matière :** Texte expliqué **Classe :** 6^{ème} AF _____

Le requin

Au bout de la prairie, il y avait un étang où nous avions rêvé de naviguer et de harponner quelques baleines. Quand on a six ans, on ne doute de rien !

Mais on avait à peine défait nos malles que l'oncle Philippe nous prit la main, nous fit signe de demeurer silencieux et, mes cousins et moi, nous mena sur les bords de l'étang. Du doigt, Il nous montra, au bout d'un piquet qui sortait de l'eau, un écriteau de bois où était peint ce mot mémorable qu'il nous fit épeler "R E Q U I N".

"Il faut, nous dit-il, toujours prévenir les autres du danger qui peut les menacer. Sur certaines grilles, on lit : "Chien dangereux". Il y a peut-être des baleines dans cet étang, quoique j'en doute, mais un requin y vit. N'approchez pas trop car le monstre a le museau prompt et long".

Du haut d'un petit arbre, nous le guettions et quand la nuit tombait nous le voyions parfois glisser confusément dans l'eau sous la lune incertaine. Vous me direz qu'il vivait seulement en notre imagination, mais il était pourtant si redoutable qu'il a su nous empêcher de tomber dans l'étang.

Tristan DEREME.

Compréhension du texte.

1.-Avant d'arriver chez l'oncle, les enfants savaient-ils qu'il y avait un étang chez lui ? Justifie ta réponse (4pts)

2.-Trouve les détails qui montrent que ce que l'oncle va leur montrer est important (4pts)

3.-Pourquoi l'oncle a-t-il mis cette écriture dans l'étang ? (2pts)

4.-Pourquoi ne peuvent-ils voir le requin que le soir ? (2pts)

5.-Quel est le thème du texte ? Comment s'appelle l'auteur du texte ? (2pts)

6.-L'auteur a-t-il gardé un mauvais souvenir du mensonge de l'oncle ? (2pts)

7.-Si tu étais là, comment te comporterais-tu face à la décision de l'oncle ? (1pt)

8.- Mets les verbes de cette phrase du texte au futur simple : « Du haut d'un petit arbre, nous le guettions et quand la nuit tombait nous le voyions parfois glisser confusément dans l'eau sous la lune incertaine. » (3pts)

Bonnes Vacances !!!

Bureau Pédagogique des Sœurs Salésiennes de Don Bosco
Examen du 4^{ème} Contrôle - Juin 2024

Institution : _____

Nom : _____ **Prénom(s) :** _____

Date : _____ **Matière : Production écrite 6^{ème} AF** _____

Un Sujet au choix

1.-En tant qu'élève, tu as des projets pour l'avenir pour cela tu rêves d'une Haïti nouvelle. Racontes-en une quinzaine de lignes les changements que tu aimerais voir pour que la situation de notre pays s'améliore.

2.-Ecris à l'un (e) de tes meilleurs (es) amis (es) qui vit dans une ville éloignée de la tienne ou à la campagne, pour lui demander de venir passer les vacances d'été avec toi. Parle-lui de tes projets pour l'encourager à venir.

Bonnes Vacances !!!

Bureau Pédagogique des Sœurs Salésiennes de Don Bosco
Examen du 4^{ème} Contrôle - Juin 2024

Institution : _____

Nom : _____ **Prénom(s) :** _____

Date : _____ **Matière : Géographie Classe : 6^{ème} AF** _____

1.-Cite les causes majeures de la misère et de la pauvreté. (1.5pt)

.....
.....
.....
.....

2.-Ecris le sigle correspondant à chaque définition. (1pt)

- a)..... Organisation des Nations unies pour l'alimentation et l'agriculture.
- b)..... Programme des Nations Unies pour le développement.
- c)..... Organisation internationale du travail.
- d)..... Fonds des Nations Unies pour l'enfance.

3.-Que veut dire : (1pt)

- a) Droit de Veto :
.....
- b) "Le droit de la guerre" :
.....

4.-Complète (1pt)

- 1) Les premières victimes des actes de terrorisme sont.....
- 2) Laest un droit fondamental de l'être humain.
- 3) Leest l'emploi de la violence par des organisations politiques pour imposer leurs vues.
- 4) L'.....est la dégradation des sols par des facteurs externes.

5) Par quel moyen les pays développés arrivent-ils à réduire le nombre de naissance ? (1pt)

.....
.....
.....

6) Donne les noms des 5 membres permanents du conseil de sécurité de l'ONU. (1.5pt)

.....
.....
.....
.....

7.-En quelle année et dans quel but l'organisation des Nations Unis a-t-elle été créée ? (1pt)

.....
.....
.....

8.-Reponds par oui ou non (1pt)

- a) La désertification est la dégradation des sols par des facteurs externes _____
- b) On trouve des pauvres et des miséreux seulement en Haïti. _____

c) Pour réduire la faim, il faut produire davantage de nourriture, contrôler les naissances. _____

d) Le cholera est une maladie qui peut tuer sans les traitements adéquats. _____

9.-Quels sont les principaux obstacles à l'accès à l'éducation fondamentale ? (1pt)

.....
.....
.....

BONNES VACANCES !!!

Bureau Pédagogique des Sœurs Salésiennes de Don Bosco
Examen du 4^{ème} Contrôle - Juin 2024

Institution : _____

Nom : _____ Prénom(s) : _____

Date : _____ Matière : **Connaissances G^{lles}** Classe : **6^{ème} AF**

1.-Cite les grands problèmes mondiaux (1.5pt)

.....
.....
.....

2.-Que sais-tu de la ségrégation raciale ? (1pt)

.....
.....

3.-Entoure la bonne réponse dans chaque cas : (1.5pt)

A.- Les bidonvilles ont pris naissance à partir d'une des caractéristiques suivantes. Laquelle ?

.- Analphabétisme

.-Faible espérance de vie

.-Exode rural

.-Mortalité infantile

B.- L'une de ces solutions contribue à diminuer la faim dans notre pays :

.-Gérer les conflits sociaux

.-Augmenter la production

agricole

.-Eviter les grossesses précoces

.-Distribuer les médicaments

C.-Actuellement, notre pays : Haïti est dirigé par :

.-Un Président

.-Un Conseil présidentiel de Transition

.-Un Premier Ministre

.-L'Assemblée Nationale

4.-Définis ces sigles (2pts)

CNUCED :

FENEH :

BUNEXE :

SHADA :

5.-Relie par flèche (1pt)

Marques de véhicules

Pays fabricants

HYNDAI a)

1.-USA

MERCEDES b)

2.-Japon

PAJERO c)

3.-Allemagne

PEUGEOT d)

4.-France

5.-Koweït

6.-Donne le PIB de chacun de ces pays (1pt)

Ethiopie :

Somalie :

Inde:.....

Côte d'Ivoire:.....

7.-Par quoi est caractérisé le cycle de vie des végétaux ? (1pt) (Au verso)

8.-Quelles sont les solutions qu'on doit envisager pour pallier au problème de l'érosion ? (1pt) (Au verso)

BONNES VACANCES !!!

Bureau Pédagogique des Sœurs Salésiennes de Don Bosco
Examen du 4^{ème} Contrôle - Juin 2024

Institution : _____

Nom : _____ **Prénom(s) :** _____

Date : _____ **Matière : Histoire Nationale** **Classe : 6^{ème} AF** _____

1.-Qui suis-je ? (1pt)

a) J'ai visité Haïti le 20 mars 1983 sous le gouvernement de Jean-Claude Duvalier. Je suis.....

b) Le 20 août 1966, j'ai été nommé archevêque de Port-au-Prince. Je suis.....

c) Sous mon gouvernement un terrible tremblement de terre a détruit la capitale, les villes de Jacmel et de Léogâne. Je suis.....

d) Aux Etats-Unis, j'ai prôné la démocratie et dénoncé les dictatures avec fermeté. Je suis.....

2.-Que signifie : (2pts)

OFATMA :

SNEM :

INFP :

ENARTS :

3.-Dans ce tableau, mets une croix(X) dans les réalisations de François Duvalier et un rond (O) dans celles de Jean-Claude Duvalier (1pt).

Réalisations	François Duvalier	Jean-Claude Duvalier
Centrale hydroélectrique de Péligre		
Le bâtiment de l'école des infirmières		
INAGHEI		
La télévision nationale		

4.-Que signifie VSN ? Quel autre nom donne-t-on aux membres de ce corps ? (1pt)

.....
.....
.....

5.-Relie chaque date a son évènement. (1pt)

- | | | |
|------------------|----|--|
| 26 avril 1963 | a) | 1.-débarquement de treize jeunes a Dame-Marie |
| 5 Août 1964 | b) | 2.-départ de Jean-Claude Duvalier |
| 7 février 1986 | c) | 3.-attentat contre le fils du président. |
| 16 décembre 1990 | d) | 4.-attaque des casernes Dessalines
5.-Election de Jean Bertrand Aristide. |

6.-Que s'est-il passé le 28 juillet 1958 ? (1pt)

.....
.....
.....

7.-En quelle année et par qui François Duvalier est-il élu président à vie ? (1pt)

.....
.....
.....
.....

8.-Vrai ou faux (2pts)

a) La banque nationale de développement agricole et industrielle (BNDAI) est fondée sous le gouvernement de Leslie Manigat. _____

b) La statue du Maron inconnu est sculptée par l'artiste Albert Mangonès. _____

BONNES VACANCES !!!

Bureau Pédagogique des Sœurs Salésiennes de Don Bosco
Examen du 4^{ème} Contrôle - Juin 2024

Institution : _____

Nom : _____ **Prénom(s) :** _____

Date : _____ **Matière : Sciences expérimentales** **Classe : 6^{ème} AF** _____

1.-Cite les grandes étapes de la méthode scientifique. (1pt)

.....
.....
.....
.....

2.-Qui suis-je ? (2pts)

- a) J'ai contribué au développement des sciences aéronautiques en travaillant sur les ballons dirigeables à des fins militaires.....
- b) Je suis le fondateur de la compagnie générale Electric, un des premiers empires industriels mondiaux.....
- c) J'ai inventé des systèmes de lubrification automatique pour les moteurs à explosion.....
- d) J'ai reçu deux prix Nobel pour mes travaux en physique et chimie.....

3.-Comment peut-on définir la science ? (1pt)

.....
.....
.....

4.-Qu'étudient les scientifiques suivants ? (1pt)

Les biologistes :

Les généralistes :

5.-Identifie les domaines d'étude auxquels les scientifiques suivants se consacrent (1pt)

Océanographe.....

Sismologue :

Physicien :

Minéralogiste :

6.-Réponds par Vrai ou faux. (1pt)

a) Un scientifique est un 'Homme de sciences' et 'savant'. _____

b) Alfred Bernhard Nobel est né en Suède le 21 octobre 1833. _____

c) Albert Einstein est un chercheur en botanique et en agronomie. _____

d) Le premier satellite artificiel fut lancé par l'Union Soviétique (URSS). _____

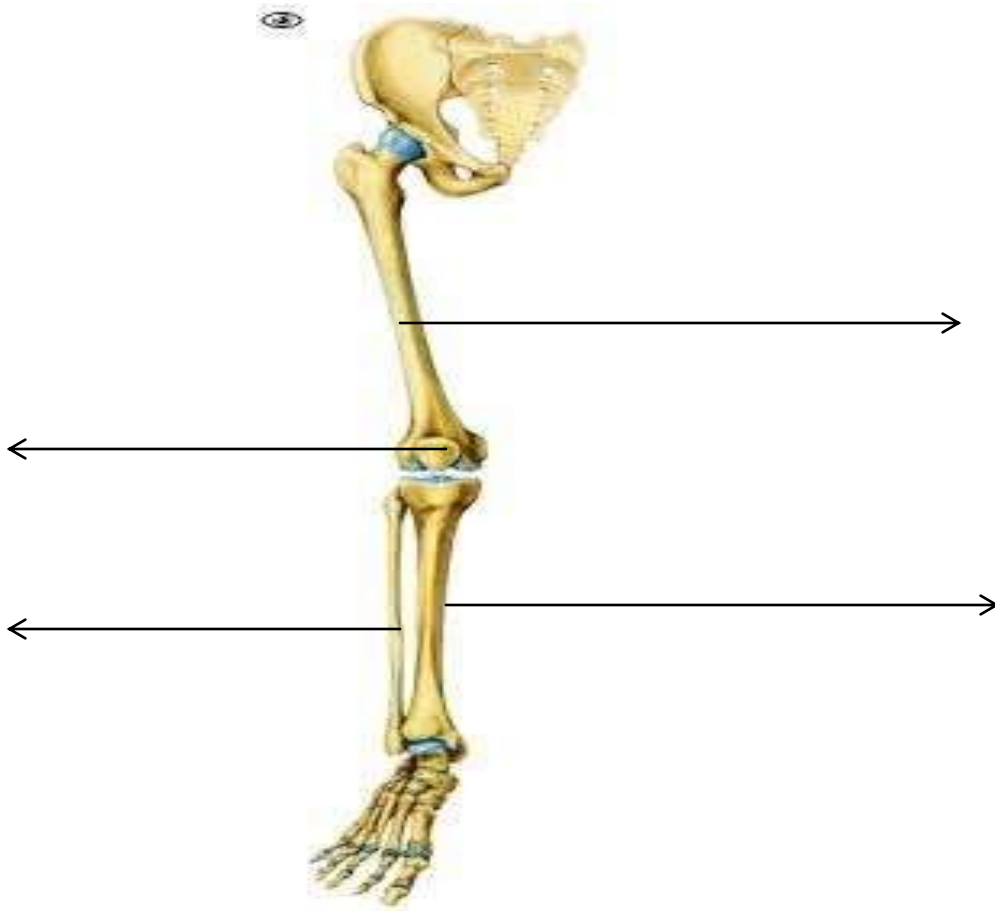
7.-Qu'est-ce qu'un émetteur radio ? (1pt)

.....
.....
.....

8.-Relie chaque scientifique à sa date de naissance (1pt)

A		B
George R. Carruthers	a)	1) 11 février 1847
Albert Einstein	b)	2) 4 août 1755
Thomas Edison	c)	3) 14 mars 1879
Nicolas Jacques Conté	d)	4) 1 ^{er} octobre 1939
		5) 7 novembre 1867

9.- A travers les flèches, j'identifie les os suivants (1pt) :



BONNES VACANCES !!!

Bureau Pédagogique des Sœurs Salésiennes de Don Bosco
Examen du 4^{ème} Contrôle - Juin 2024

Institution : _____

Nom : _____ Prénom(s) : _____

Date : _____ Matière : Education à la citoyenneté Classe : 6^{ème} AF _____

1.-Qu'est-ce que la liberté physique. (1pt)

.....
.....
.....
.....

2.-Que comprend le respect des biens d'autrui ? (1pt)

.....
.....
.....

3.-De quels peuples nous viennent ces mots ? (1.5 pt)

Le vodou :..... Le mabi :..... vivre en lakou :.....
Les vèvès :..... La religion chrétienne :..... Le système éducatif :.....

4.-Qu'appelle-t-on francophonie ? (1pt)

.....
.....
.....

5.-Coche les bonnes réponses (1pt)

A ton avis, pourquoi un pays a-t-il intérêt à aider d'autres pays ?

- a) parce qu'il est gentil.
- b) Parce que cela peut lui rapporter de l'argent.
- c) Parce que cela peut lui rapporter de la gloire.
- d) Parce qu'il a passé des accords avec ces pays.

6.-Comment l'Etat doit-il garantir la sécurité de ses citoyens à l'étranger ? (1pt)

.....
.....
.....

7.-Fais des couples pour associer ceux qui vont ensemble. (2pts)

- | A | B |
|------------------------------------|--|
| a) La surpopulation | 1) agent diplomatique qui s'occupe surtout d'échanges commerciaux. |
| b) L'érosion et la désertification | 2) Une boisson d'origine Taïno |
| c) Un consul | 3) L'augmentation de la misère dans le monde |
| d) Le mabi | 4) Phénomènes désastreux pour un pays. |

(..... ;.....) (..... ;.....) (..... ;.....) (..... ;.....)

8.-Complète (1.5pt)

Les sont des engagements pris par des pays pour protéger leurs intérêts.

L'..... et le

Font partie des produits qui rapportent beaucoup de devises .- Nous devons protéger les que nous avons la chance de posséder.

BONNES VACANCES !!

Bureau Pédagogique des Sœurs Salésiennes de Don Bosco
Examen du 4^{ème} Contrôle - Juin 2024

Institution : _____
Nom : _____ **Prénom(s) :** _____
Date : _____ **Matière : Conjugaison** **Classe : 6^{ème} AF** _____

1.-Mets les verbes aux temps indiqués. (2pts)

(Partager, 2^e pers.sing- imper) Le gâteau et
(manger, impér)en un morceau. –Voici des mangues, (ramasser, 2^e pers.
Sing imper.) en.....en un plein panier .- Je te
(renvoyer, fut simp.) ton livre dès que je l’aurai lu.- Si tu avais une
commission pour Pierre, tu la lui (envoyer, prés.cond.).....

2.-Mets les verbes au présent du conditionnel (2pts)

Tu fortifi..... tes muscles par des exercices – La couturière raccourci..... la robe. -
Bernard rempli..... les bouteilles .-Je vous remercie..... de votre cadeau.

3.-Ecris les verbes à l’imparfait de l’indicatif. (3pts)

-Nous (descendre) Les premiers de l’autobus.
- Ils (répandre)..... de l’engrais sur les plates-bandes .
-Nous les (surprendre).....en train de jouer.
- Vous (repandre) Des forces.
-Elle (entreprendre)..... un voyage à Hinche.
-Ils (repandre) le bus pour retourner à la maison.

4.-Ecris les verbes entre parenthèses aux temps voulu. (2pts)

Je croirais lui faire de la peine si je lui (refuse) ce service.
Ce jeune garçon nous servirait de guide si nous le lui (demander).....
Si les mécaniciens avaient levé la panne, Michel (continuer)
son voyage.
Vous auriez été en forme, si vous (faire)..... du sport.

5.-Mets les verbes entre parenthèses au subjonctif présent (2pts)

Il faut absolument que les enfants (obéir) à leurs parents.
Il faut que nous (se presser) de finir notre devoir.
Mon cousin est malade ; je désire que le médecin le (guérir).....
Il convient que nous (arrondir) cette valeur.

6.-Emploi l’imparfait de l’indicatif (3pts)

Il (joindre)..... les mains. – Tu (éteindre) La
lampe. –Tu (résoudre) ce problème difficile. – Elle (teindre)
..... ses cheveux. – Vous (rejoindre) vos
camarades. – L’eau (dissoudre) le sel.

7.-Emploie le futur simple (3pts)

A qui ces livres (appartenir)..... ils ?
-Ils (obtenir) de bons résultats.
- Elle (revenir)..... du lieu de l’accident et me (dépeindre)
..... la scène.
-Tu le (tenir)..... Par la main.
- Les deux filles (revenir) Du marché.

8.-Mets à la voix passive (1.5pt)

On a repeint les murs et refait les plafonds.
.....
Mon grand-père avait acheté cette maison ;mon père l’aménagea.
.....

9.-Ecris les verbes au présent de l'indicatif (1.5pt)

- Tu (combattre)..... tes mauvaises habitudes.
- Nous (joindre) les mains.
- Je (peindre) des paysages.
- Tu (obtenir) La première place.
- Les préposés communaux (percevoir) les taxes communales.
- Elle (décevoir) ses amis.

BONNES VACANCES !!!

Bureau Pédagogique des Sœurs Salésiennes de Don Bosco
Examen du 4^{ème} Contrôle - Juin 2024

Institution : _____
Nom : _____ **Prénom(s) :** _____
Date : _____ **Matière : Grammaire/Analyse** **Classe : 6^{ème} AF** _____

1.-Remplace les points par un déterminant possessif ou indéfini (3pts)

..... élèves ont fait leur devoir. D'autres ne l'ont pas fait.
Vous avez déjà pris Effets ; il nous faut aller chercher..... livres
On dit souvent mère, fille.

2.-Complète avec une forme de l'adjectif donné en tête (1.5pt)

1) (nouveau) Le ami. Le Camarade. La copine
2) (vieux) Un habit. un veston. une robe.

3.-Relie les deux phrases pour en faire une seule en te servant d'un pronom relatif (2pts)

a) cette voiture ne m'intéresse pas. Cette voiture est vieille
.....
b) on a organisé un concert. Le résultat de ce concert a été excellent.
.....
c) Un marchand nous a vendu des pistaches grillées. Nous les avons mangées tout de suite.
.....
d) Je vais vous montrer la maison. J'ai dû me réfugier dans cette maison.
.....

4.-Remplace les points par un pronom démonstratif ou possessif convenable (2pts)

- Les objets les plus brillants ne sont pas toujours..... qui sont les utiles.
- Pour le pique-nique, nous emportons nos provisions, vous apporterez....., eux ils emporteront

- Cette foret est que j'ai traversée.

5.-Remplace je, me, moi par nous et fais les changements nécessaires. (2pts)

a) j'aimerais écrire l'histoire de mon pays. J'en serais fier.
.....
b) Que d'histoires j'ai entendues !
.....

6.-Remplace les points par une préposition (1pt)

- Cette voiture a eu un accident, elle est mille morceaux.
- les premières heures du jour , on entend les coqs chanter.
- Mon frère est l'école..... cinq ans.

7.-Mets les phrases suivantes en discours direct (2pts)

Julie a déclaré qu'elle a vécu une journée inoubliable avec des amies à la plage.
.....
La maman demande à Josette pourquoi elle laisse la viande dans son assiette.
.....

8.-Analyse les mots soulignés (2.5pts)

Edith et Marcel ont réussi leurs compositions ; Wilfrid et Justine n'ont pas réussi les leurs. - Ces livres sont ceux que j'ai étudiés toute l'année.

Réussi :
Composition :
Les leurs :
Ceux :
Toute :

9.-Mets (a,b,c,d) dans la bonne case pour identifier les propositions soulignées (2pts)

- a) Si vous allez en ville, passez au market qui est près du marché
- b) Il restait méfiant et dès qu'il entendait un léger bruit, il arrêtait son repas.
- c) Si le temple est beau, j'irai te voir dimanche.
- d)Elle crie après son âne jusqu'à ce qu'il parte.

Principale	coordonné	Subordonnée

10.-Fais l'analyse logique de cette phrase (2pts)

Si tu ne m'aide pas, je n'aurai pas fini mon travail à midi.

.....

.....

.....

.....

.....

.....

.....

BONNES VACANCES !!!

Bureau Pédagogique des Sœurs Salésiennes de Don Bosco

Examen du 4^{ème} Contrôle - Juin 2024

Institution : _____

Nom : _____ Prénom(s) : _____

Date : _____ Matière : Orthographe Classe : 6^{ème} AF _____

1.- Complète avec le mot qui convient en l'accordant si nécessaire (3pts)

A-

Nous ne pouvons réussir..... Ton aide tu cette bonne odeur de fritures ?- Cette histoire, il souviendra toujours.

B-

Ce discours, tu déjà entendu.- Sa mère, il protégera envers et contre tout.- Cette robe, elle..... portera pour son anniversaire.

2.- Ecris les noms suivants au pluriel (2pts)

L'enjeu :..... Le bijou :..... l'email :.....

Le landau :..... le pneu :..... le verrou :.....

Le chandail :..... le ruisseau :.....

3.- Complète les mots avec la graphie du son F qui convient (1pt)

La catastro.....e le chi.....on l'a.....iche

l'or.....elin.

4.- Ecris les mots correspondant à ces phrases. (1pt)

.-Je suis un temps entre l'enfance et la maturité.....

.-Je suis quelqu'un qui n'a ni père ni mère.....

.-Assemblage de bois ou de métal fermant un passage.....

.-Je suis un grave accident.....

5.- Mets les verbes entre parenthèses au plus-que-parfait (1pt)

Avez-vous reçu la lettre que nous vous (envoyer)..... Le mois dernier ?

Tu as étudié les leçons que le professeur (donner).....

Elle (préparer)..... déjà tous ses devoirs lorsque sa mère rentra.

Nous (rester) sur la terrasse.

6.- Ecris les mots soulignés au singulier (1pt)

Elle lave les haricots.

Elle habite dans les hauteurs.

Vous logerez dans ces hôtels.

Ils réparent les horloges.

7.- Ajoute un mot invariable pour compléter ces phrases (1pt)

Nous sommes venus à l'école..... la pluie.

Nous avons des devoirs..... nos parents.

Marie est assise son père et sa mère.

Nous avons rencontré..... de nos camarades.

BONNES VACANCES !!!

Bureau Pédagogique des Sœurs Salésiennes de Don Bosco
Examen du 4^{ème} Contrôle - Juin 2024

Institution : _____

Nom : _____ **Prénom(s) :** _____

Date : _____ **Matière : Vocabulaire** **Classe : 6^{ème} AF** _____

1.-Relie ces expressions à leur définition (1pt)

- | | | |
|------------------------------------|----|--------------------------------|
| Etre de bonne foi | a) | 1.-l'attendre avec impatience. |
| Personne digne de foi | b) | 2.-l'établir, la fonder |
| Jeter les bases d'une religion | c) | 3.-une musique merveilleuse |
| Attendre quelqu'un comme le messie | d) | 4.-être sincère |
| | | 5.-que l'on croit sur parole |

2.-Le suffixe "cide" évoque l'idée de "tuer" (1pt)

a) Comment s'appelle :

Le meurtre d'un enfant ?.....

Le meurtre d'un père ?

b) Indique le lieu de culte et le chef religieux de ces fidèles (1pt)

Les juifs

Les musulmans

3.-Entoure la lettre de la bonne réponse. (1pt)

Prévoir, c'est :

a) voir de près

b) organiser d'avance

Jeter les bases de quelques choses, c'est :

a) établir, fonder quelque chose

b) renverser quelque chose

4.-Vrai ou faux (1pt)

a) Le culte est l'ensemble des pratiques destinées à rendre hommage à Dieu.....

b) Professer la foi en Jésus, c'est déclarer que l'on a la foi en Jésus.....

c)La synagogue est le lieu de culte des musulmans.....

d)L'éthique concerne la moral, la conduite correcte à avoir.....

5.- a) Donne le contraire de : (0.75pt)

Nier :..... Morale :..... athée :.....

b) Trouve un mot de la même famille que : (0.75pt)

Démarrer :..... Vider :..... Verser :.....

6.-A l'aide d'un préfixe, trouve l'adjectif de sens contraire pour chacun des mots suivants. (1.5pt)

Moral :..... Révocable :..... limité :.....

Supportable :..... lettré :..... Responsable :.....

7.- Dans chaque série, souligne l'intrus qui n'indique pas une idée contraire (1pt)

1) intelligent – incurable- incapable – indécrot

2) imparfait – important – impoli – impatient

8.-Transforme les phrases suivant l'exemple (1pt)

EX :Tu quittes tes chaussures_____ Tu les quittes.

- a) La météo annonce la pluie pour la semaine prochaine.
- b) J'ai vu tous les films de cet acteur.....
- c) Le canot traverse les eaux agitées des mers.....
- d) Tous les soirs, je lis mon livre.....

BONNES VACANCES !!!

Bureau Pédagogique des Sœurs Salésiennes de Don Bosco
Examen du 4^{ème} Contrôle - Juin 2024

Institution : _____

Nom : _____ Prénom(s) : _____

Date : _____ Matière : **Raisonnement** Classe : **6^{ème} AF**

1.-Le prix d'une marchandise de 6000gourdes est majoré de 30%. Combien paie-t-on ? (3pts)

Solution

opération

2.-Un marchand a gagné 88 gourdes sur une pièce d'étoffe de 32mde longueur, réalisant ainsi un bénéfice de 25 % sur le prix d'achat. Calcul : (4pts)

1) le prix d'achat total de la pièce.

2) Le prix d'achat du mètre.

Solution

opération

3.-Trouve le pourcentage dans chaque cas (2pts)

a) Ania doit payer une robe. La vendeuse décide de lui faire une remise de 25%.

b) Perdre 7kg de 375kg de blé.

Solution

opération

4.-Monique place un capital de 752000 gourdes dans une compagnie financière. Après 4 ans, les intérêts rapportés par ce capital sont de 90240 gourdes. A quel taux annuel ce capital est-il placé ? (4pts)

Solution

opération

5.- Complète ce tableau (4pts)

Capital	132000gdes		
Taux annuel	12.73%	3%	11%
Intérêts par ans			
Intérêts par mois	1400gdes		4290gdes
Intérêts en 2 ans		9510gdes	

6.-Sur un plan, on relève : longueur de la salle à manger : 6.50cm. Dans la réalité cette longueur est de 13m. Quelle est l'échelle de ce plan ? (3pts)

Solution

opération

Bureau Pédagogique des Sœurs Salésiennes de Don Bosco
Examen du 4^{ème} Contrôle - Juin 2024

Institution : _____

Nom : _____ Prénom(s) : _____

Date : _____ Matière : Opération/ Numération Classe : 6^{ème} AF _____

1.-a) Combien y a-t-il de kg dans : (3pts)

$\frac{483}{9} kg =$ _____

$\frac{238}{7} kg =$ _____

b) Mets dans l'unité indiquée

$3\frac{1}{2} l =$ _____ onces

$5\frac{1}{8} lb =$ _____ onces

c) Remplace les fractions suivantes par un nombre entier

$\frac{360}{60} l =$ _____

$\frac{56}{6} l =$ _____

2.-Effectue les opérations suivantes (3.5 pts)

a) $24 \times \frac{2}{5} =$ _____ b) $15 \times 4\frac{2}{3} =$ _____ c) $\frac{8}{9} \div \frac{4}{5} =$ _____

d) $8 \div \frac{3}{5} =$ _____ e) $1573 \div 4 h 2mns =$ _____

f) $12h 40mn 21s \div 9 =$ _____ g) $12h 31mn 15s \times 4 =$ _____

3.-a) Ecris ces nombres fractionnaires en nombre a virgule (1pt)

$8\frac{3}{5} =$ _____

$9\frac{5}{8} =$ _____

b) Mets sous forme de nombre fractionnaire (1pt)

26,005 = _____

19,05 = _____

4.-Complète ce tableau et précise l'échelle (1pt)

Longueur réelle (cm)	80 000		
Longueur sur la carte (cm)	16	1	4.8

B) Que vaut (1pt)

a) 25% de 800 = _____

B) 9% de 230 m = _____

5.-Ecris ces nombres avec des chiffres arabes ou des chiffres romains (1pt)

a) DCCLXXI = _____

b) 2672 = _____

c) 1493 = _____

d) MDCCXLVIII = _____

6.-a) Complète ce tableau a l'aide de produits en croix (1.5pt)

Nombre d'allumettes	2	5		
Longueur (cm)	46		161	299

b) Utilise ce tableau pour trouver le coefficient et répondre aux questions. (1pt)

Nombre de bougies	5		8
Prix des bougies (gdes)	130	286	

1) Combien de bougies peut-on acheter avec 286 gourdes ?

2) Combien coutent 8 bougies ?

7.-Place le signe qui convient <, > ou = (2pts)

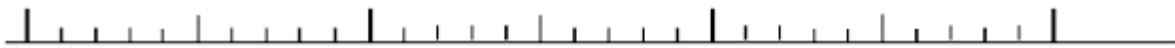
32,14.....32,4

61,531.....62,5

30,80.....30,8

0,725.....0,8

8.-Sur cette droite orientée place les nombres suivants : 11,6 et 12,8 (1pt)



11

9.-a) Fais un encadrement au centième pour chacun des nombres (2pts)

_____ < 57,835 < _____

_____ < 72,194 < _____

_____ < 129,946 < _____

_____ < 51,63 < _____

b.- Trouve 5 nombres à virgule compris entre 35,5 et 36,6 (1pt)

BONNES VACANCES!!!

Bureau Pédagogique des Sœurs Salésiennes de Don Bosco
Examen du 4^{ème} Contrôle - Juin 2024

Institution : _____

Nom : _____ **Prénom(s) :** _____

Date : _____ **Matière : Géométrie/ mesures** **Classe : 6^{ème} AF**

1.-A) Dis ce que représente : (3pts)

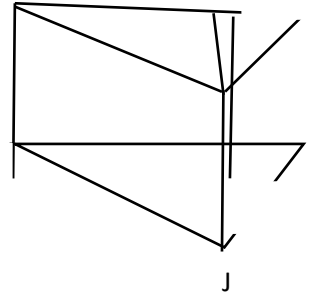
- 1) le triangle CDE pour le prisme
 2) le segment [CH] pour le triangle CDE

.....

- B) DG = 3cm
 DE = 4 cm
 HC = 1.5cm

Trouve le volume de ce prisme

.....



2.-A) Mets en litres (2pts)

- a) $6,22 \text{ dm}^3 = \dots\dots\dots$ b) $0,456 \text{ m}^3 = \dots\dots\dots$ c) $4872 \text{ cm}^3 = \dots\dots\dots$ d) $735 \text{ cm}^3 = \dots\dots\dots$

B) Effectue et donne le résultat en gramme (2pts)

- a) $368 \text{ dag } 56 \text{ dg} + 8\text{kg } 26\text{g } 3\text{dg} = \dots\dots\dots$
 b) $589 \text{ kg } 28 \text{ dg} - 325 \text{ dag } 52 \text{ dg} = \dots\dots\dots$


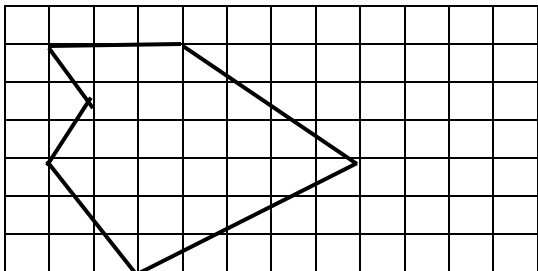
3.-Complète ce tableau concernant des cylindres (3pt)

Rayon	5cm	6.5dm	9cm
Aire de base			
Hauteur	9cm		
Volume		$530,66 \text{ dm}^3$	$635,85 \text{ cm}^3$

4.-Fais des flèches pour relier la colonne A à la colonne B (4pts)

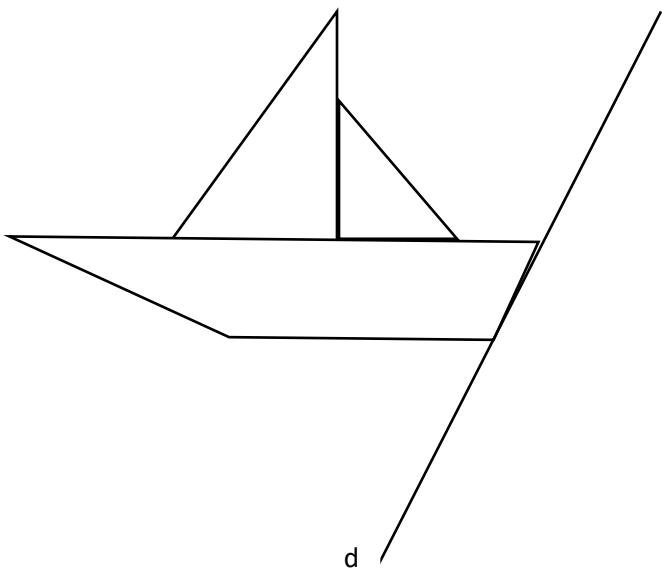
A	B
Unités de masse en livres	Unités de masse en onces
a) $3 \frac{1}{4} \text{ livres}$	1) 44 onces
b) $2 \frac{3}{4} \text{ livres}$	2) 88 onces
c) $2 \frac{1}{4} \text{ livres}$	3) 52 onces
d) $5 \frac{1}{4} \text{ livres}$	4) 62 onces
	5) 36onces

5.-Reproduis cette figure avec un agrandissement de rapport 2 (2pts)



6.-Construis un pavé droit longueur 3cm largeur 2 cm, trace les arêtes. (2pts)

7.-Trace le symétrique de cette figure à partir de la droite d (2pts)



BONNES VACANCES!!!

Bureau Pédagogique des Sœurs Salésiennes de Don Bosco
Examen du 4^{ème} Contrôle - Juin 2024

Institution : _____

Nom : _____ **Prénom(s) :** _____

Date : _____ **Matière : Créole** **Classe : 6^{ème} AF**

Agwonòm Wodrig di jan pyè konsa:” plante se yon travay fasil! Fè ti pepinyè ou anba lonbray nan jaden ou. Simen grenn nan ti sachè plastik osinon nan bout mamit. Wouze yo maten ak aswè jis grenn yo jèmen.

Depi sezon lapli rive, fouye twou toutotou jaden an. Retire plant la nan mamit la oubyen nan sachè plastik la. Vide dlo nan chak trou, mete ti plant la. Mete tè toutotou li. Pou li kapab rete dwat, si se yon ti pye seriz, kowosòl, sitwon plante yo 3 aswa 4 mètr distans.

Pa bliye sa. Ti pyebwa ki fèk plante se tankou yon ti bebe li bezwen swen jis li ka rive degaje l’ poukont li. chak jou li bezwen wouze. Yon ti fimye tanzanyan va bon pou li tou. men fè atansyon, paske kabrit renmen jèn ti plant, mare yo pou yo pa fè dega. Tankou timoun renmen ti mango byen dous , konsa tout kabrit renmen bèl ti flè ki fèk parèt.

Sonje wouze plant yo, tè toutotou yo pa dwe janm rive sèch se lè plant yo kòmanse gwo, yo ka viv ak dlo lapli a sèlman, fòk tout moun swiv konsèy sa yo. Konsa, peyi nou an ap vin pi bèl. Lap sispann tounen yon dezè. Nan lakou lakay nou, nan lakou lekòl nou, nan jaden nou toujou fè pepinyè.

Kesyon sou tèks la

Antoure lèt ki devan bon repons lan pou kesyon 1 ak 2.

1.-Daprè tèks la yonn nan fraz sa yo se yon bon konsèy agonom nan bay pyè jwenn li. (1 pwen).

- a) Fouye trou toutotou pyebwa yo
- an) Fè anpil ti pepinyè anba lonbray
- b) Mare kabrit yo pou yo pa manje gwo pyebwa yo
- ch) Sere tout sachè plastik ak tout mamit

2.-Nou oblje wouze ti pepinyè yo pou : (1 pwen).

- a) Bèt pa detwi yo
- an) yo bay bèl fwi
- b) tè a pa ale ak yo
- ch) yo grandi pi vit

3.-Chwazi nan mo sa yo pou ou konplete fraz ki anba yo (2 pwen).

Ede - arebò - pote derasinen - kale - swen.

- a) Kabrit kapabjèn plant yo
- an) Ou dwe pran.....pepinyè yo
- b) Wodrig desidekiltivatè a vre
- ch) Tèplant yo pa dwe seche.

4.-Kisa ki ka anpeche moun yo fè plant (2 pwen).

.....

.....

5.-Di sa ou panse de konpòtman klas sa a : (2 pwen).

Mèt sisyèm ane lekòl Sen Jera te mennen elèv li yo nan mòn Blèz pou yo al plante anpil ti plant yo te prepare nan lekòl la depi jou sa a, yo pa janm retounen nan zòn nan

.....

.....

6.-Mete devan chak fraz yon chif (1, 2, 3, 4) pou ou fè klasman k’ap bay rezime tèks la. (2 pwen).

(_____) wouze yo, pwoteje yo, jis yo grandi.

(_____) reyalize ti pepinyè nan sachè oubyen nan mamit.

(_____) konsa peyi nou ap vin bèl tankou lontan

(_____) mwayen pou nou plante difisil.

Otograf –Vokabilè - Gramè

1.-konplete chak moso fraz sa yo ak tip pilye ki endike nan mitan parantèz yo (2 pwen).

a) Jozèt machann legim nan (pilye aktivite)

an) Bokit la(pilye eta)

2.-Korije mo soulinye yo dapre òtograf ofisyèl kreyòl la (3 Pwen)

Pyè reveille bonè. Li a abile byen vit. Li fè yon ti etidye. Li rennmase liv ak kaie li ,li antre yo nan valiz li. L'al veille gwoup elèv k'ap pase apie yo.

3.-Antoure lèt ki devan bon repons la (1 pwen)

Bènadèt travay vit kontrè a se :

A) Fasilman - An) Rapidman - B) dousman - Ch) korèkteman

4.-Separe fraz sa a an de moso epi mete chak moso nan kabare pa l'. (1 pwen)

Gwo bèf rouj papa pyè a ap kouri nan lari a.

5.-Nan chak fraz sa yo, soulinye predika a. (2 pwen)

a) Papa Jak avoka nan janrabèl.

an) Chat gri Nikòl la anba tab la.

6.-Renplase pwen yo pa pwonon pèsònèl ki korèk la. (2 pwen)

a)Lè machann nan te di elèv yo : ‘’ achte non ! Te refize paske pa t’ gen kòl ‘’.

an) Mèt la di elèv yo :’’mèt soti, Jwe nan lakou a

7.-Mete an fransè : (2pwen)

a) Liv sa a se pa li a.....

an) Wòb sa a se pa ou a.

b)Klas sa a se pa yo a.

ch) Balon an, se pa pan ou an.

8.-a) Nan fraz sa a soulignye pwonon relatif la (1pwen)

Se pa jan ki manje pòm na.

An) Aaplwaye diskou dirèk la nan fraz sa a.(1pwen)

Manman l’ di, li bouke ak lavi difisil sa a.

Pwodiksyon ekri.

Sijè : ou rive nan fen ane 6^e ane fondamantal ou ; ane k’ap vini ou pral kòmanse ak 7^e ane. Ekri yon ti zanmi ou pou ou di l’ kijan ou kontan, ki pi bon souvni ou genyen sou peryòd sa a. Di tou kisa ki te plis make ou. (5pwen)

